




séance 1

Dispose sur ton ardoise le même nombre de jetons que les frappés de main :



Combien de jetons en tout ?




$$5 + 3 = 8$$

Combien de jetons en tout ?



=



Combien de jetons en tout ?




Combien de jetons en tout ?



Combien de jetons en tout ?



séance 2



6



7



8



9



Dessine comme Dédé



Dessine comme Picbille

