

Problème n°1 :


M. Dupré achète :

	24€		10€		5€
---	-----	---	-----	---	----

*Combien dépense-t-il ?*

--	--

Problème n°2 :


19		6	
----	--	---	---

*Combien manque-t-il d'assiettes ?*

--	--

Problème n°3 :


La maîtresse achète 5 livres:



*Combien dépense-t-elle en tout ?*

--	--

Problème n°4 :

	24		
Mario	13	Théo	?

*Combien d'images pour Théo ?*

--	--

Problème n°1 :

M. Dupré achète un cartable à 24€,

un livre à 10€ et un classeur à 5€.

*Combien dépense-t-il ?*




--	--

Problème n°2 :

Dans une petite école, 19 enfants vont manger à la cantine.

On a déjà mis 6 assiettes.

*Combien d'assiettes faut-il encore mettre ?*



--	--

Problème n°3 :

Une directrice d'école achète 5 bandes dessinées

à 10€ l'une.

*Combien doit-elle payer ?*



--	--

Problème n°4 :

Mario et Théo se partagent une pochette de 24 images.

Mario prend 13 images et donne les autres à Théo.

*« Ce n'est pas juste ! » dit Théo. Pourquoi ?*



--	--