







Qui a le plus grand nombre de jetons en tout ?  
Qui en a le moins ?



Qui a le plus grand nombre de jetons en tout ?  
Qui en a le moins ?





Combien de groupes de 10 et de crayons isolés ?  
Combien de crayons en tout ?

Combien en tout ?

13 groupes de 10 points et 6 points, c'est ....

15 bouquets de 10 fleurs et 4 fleurs, c'est ....

10 paquets de 10 gâteaux et 5 gâteaux, c'est ....